



SINDHI HIGH SCHOOL, K.K. ROAD BENGALURU
HALF YEARLY EXAMINATION 2025-26
SUBJECT: ENGLISH



NAME: _____
CLASS: III A/B/C
ROLL NO.: _____
DATE: 15/09/2025

MARKS: 40
NO OF PRINTED SOPS: 26
READING TIME: 15 MINUTES
WRITING TIME: 2HRS

General Instructions:

- Read all the questions carefully
- All questions are compulsory
- Write neatly in the given order

SECTION A- READING [10 Marks]

I. Read the given passage and answer the questions that follow: [5]

Once there was a little squirrel named Chintu who lived in a tall banyan tree. Chintu loved to collect nuts and hide them for later. One day, while gathering nuts, he saw a thirsty crow struggling to find water. Chintu had stored a pot of water near his nest for hot days. The crow asked politely, "Dear Chintu, may I please drink some water?" Chintu was selfish and replied, "No, this is my water. Find your own." The poor crow flew away, weak and tired.

A few days later, Chintu slipped while jumping from one branch to another and hurt his leg. He could not climb down to search for food or water. He was hungry and very thirsty. Just then, the same crow saw him. Instead of flying away, the crow brought Chintu some water in his beak and also dropped a few grains of food near him.

Chintu felt ashamed of his selfishness. He realized that kindness always comes back in surprising ways. From that day on, he shared whatever he had with others and lived happily with many friends.

A. Choose the correct answer:

1. Why did Chintu refuse to give water to the crow? [1]
- a) He was angry
 - b) He was selfish
 - c) He had no water
 - d) The crow was rude

2. What lesson did Chintu learn in the end?

[1]

- a) To collect more nuts
- b) That water is important
- c) To always share and be kind
- d) To stay away from crows

B. Answer the following:

3. How did the crow help Chintu when he was hurt?

[1]

Ans. _____

4. Why did Chintu feel ashamed?

[1]

Ans. _____

5. From the passage find the antonyms of (opposites)

[1/2x2=1]

a) strong x _____

b) selfish x _____

II. Read the given passage and answer the questions that follow:

[5]

In the city of Gokul, when Lord Krishna was a little boy, he was very playful and full of mischief. He loved to steal butter from the pots in his mother's kitchen. Sometimes he would climb on overfilled pots with the help of his friends, and together they would take out butter and share it happily.

One day, Mother Yashoda caught Krishna with his mouth full of butter. She tied him with a rope to a heavy wooden grinding machine as a punishment. But Baby Krishna simply crawled, dragging the machine with him! As he kept moving, the machine got stuck between two tall trees. With one strong pull, Krishna brought down both trees to the ground. From the fallen trees appeared two shining men. They were two godly brothers who had been punished to live as trees. They were set free because of Krishna's power and returned to their home in heaven. Seeing this, Mother Yashoda realised her little boy was no ordinary child.

A. Choose the correct answer:

1. What did Krishna love to steal from the kitchen?

[1]

- a) Milk
- b) Butter
- c) Sweets
- d) Fruits

2. What happened when Krishna pulled the grinding machine between the trees? [1]
- a) It broke into pieces
 - b) A river started flowing
 - c) Two trees fell, freeing two godly men
 - d) Krishna ran away into the forest

B. Answer the following:

3. Why did Mother Yashoda tie Krishna to the grinding machine? [1]

Ans. _____

4. What did Mother Yashoda realise after seeing the two godly brothers? [1]

Ans. _____

5. From the passage find the synonyms of (same meaning)

a) small - _____

b) rob - _____

[1/2x2=1]

SECTION B-GRAMMAR AND WRITING [15 Marks]

III. Identify the nouns and circle them in the sentences below:

[1x3=3]

- 1. Johnny played in the garden.
- 2. The army of soldiers fought bravely.
- 3. My mother cooks tasty food.

IV. Fill in the blanks with suitable pronouns:

[1x2=2]

(he, she, it, they, we, you)

- 1. Reena is my friend. _____ likes to read books.
- 2. The birds are singing. _____ are happy today.

V. Fill in the blanks with suitable articles - "a", "an", or "the"

[1x2=2]

- 1. _____ Sun sets in the west.
- 2. Preeti saw _____ eagle flying high.

VI. Fill in the blanks with suitable adjectives from the brackets:

[1x3=3]

(beautiful, happy, interesting)

- 1. Raju was reading an _____ book.
- 2. We are very _____ to go on a picnic.
- 3. She wore a _____ dress.

SECTION C-LITERATURE [15 Marks]

VIII. Read the following extract and tick the correct answers for the following questions: [1x3=3]

“Superheroes don’t get sick, do they, Papa?” sniffled Shivum as he shivered under the covers.

a) The above extract has been taken from the lesson _____

- i) Rathna and the Ring of Fire
- ii) The Porridge Pincher
- iii) Superfoods for Superheroes
- iv) Litterbug

b) Shivum was feeling sad and unhappy because _____

- i) his throat hurt
- ii) he was missing his friends
- iii) he was sick and hadn’t gone to school
- iv) all of the above

c) Papa made Shivum drink a magic potion while _____

- i) he chanted a healing spell
- ii) he made him do his homework
- iii) he took him to the park
- iv) he cooked his favourite dish

IX. Answer the following:

[2x4=8]

1. What happens to the wind in the mill sails and what is it used for?

Ans. _____

2. Who was Magnes and what did he discover?

Ans. _____

3. Why did Baby Bear cry the most when he entered the cottage after all the Brown Bears returned from the walk in the woods?

Ans. _____

4. What is the main message of the poem, 'Litterbug?'

Ans. _____

X. Answer the following questions:

[2x2=4]

a) Who put the Tortoise on the branch of the mango tree and why?

Ans. _____

b) How did the Tortoise paint the Hyena?


Ans. _____



SINDHI HIGH SCHOOL K K ROAD BENGALURU

HALF YEARLY EXAMINATION (2025 – 26)

SUBJECT – HINDI (ADD LANG)



NAME- _____

MARKS – 40

CLASS – 3 A/B/C

NO OF PRINTED SIDES - 05

ROLL NO - _____

READING TIME – 15 MINUTES

DATE – 19/9/2025

WRITING TIME – 2 HRS

General instructions-

- 1) Read the questions carefully
- 2) All questions are compulsory
- 3) Write neatly in the given order

। दिए गए गद्यांश को पढ़कर सही उत्तर पर गोला लगाइए। (5X1=5)

चींटियों को मेहनती जीव भी कहा जाता है। चींटियाँ अपने वजन से 20 गुना ज़्यादा वजन उठा सकती हैं। दुनियाभर में 12000 से ज़्यादा प्रकार की चींटियाँ पाई गई हैं। चींटियाँ कभी नहीं सोती हैं, वे हमेशा काम करती रहती हैं। दुनिया की सबसे बड़ी चींटी को बुलेट चींटी कहा जाता है। चींटियाँ लगभग तीन से चार घंटे सोती हैं। चींटियों के दो पेट होते हैं।

1. किस जीव को मेहनती जीव कहा जाता है ?
i) हाथी को ii) बिल्ली को iii) चींटी को iv) शेर को
2. चींटियाँ अपने वजन से कितना गुना ज़्यादा वजन उठा सकती हैं ?
i) 30 गुना ii) 20 गुना iii) 50 गुना iv) 10 गुना
3. दुनियाभर में कितनी प्रकार की चींटियाँ पाई गई है ?
i) 12000 ii) 14000 iii) 11000 iv) 13000
4. दुनिया की सबसे बड़ी चींटी का नाम क्या है ?

i) डबल चीटी ii) बुलेट चीटी iii) फेमस चीटी iv) राइफल चीटी
5. चीटियों के कितने पेट होते हैं?

i) तीन ii) एक iii) दो iv) चार

II (क) विलोम शब्द लिखिए।

($\frac{1}{2} \times 1 = 1$)

i) अच्छा x _____ ii) दूर x _____

(ख) पर्यायवाची शब्द लिखिए।

($\frac{1}{2} \times 1 = 1$)

i) पानी - _____ ii) चरण - _____

(ग) सही विशेषण का प्रयोग करके वाक्य पूरे कीजिए।

($\frac{1}{2} \times 1 = 1$)

i) चाँद कभी - कभी _____ हो जाता है। (छोटा / छोटी)

ii) चाँद ने _____ झिंगोला सिलवाने के लिए कहा। (मोटा / पतला)

(घ) नीचे लिखे वाक्यों में सही विराम चिन्ह लगाइए।

($\frac{1}{2} \times 1 = 1$)

(/ , / ? /)

i) तुम कहाँ गए थे

ii) गीता सीता और मीता गा रहे थे।

(ङ) समान तुक वाले शब्द लिखिए।

($\frac{1}{2} \times 1 = 1$)

i) मरता - _____ ii) घटता - _____

III (क) अनेक शब्दों के लिए एक शब्द लिखिए।

($\frac{1}{2} \times 1 = 1$)

i) फटे दूध से निकली ठोस वस्तु _____

ii) जिसके आने की तिथि न हो _____

(ख) वचन बदलिए।

($\frac{1}{2} \times 1 = 1$)

i) बकरी - _____ ii) खुशी - _____

(ग) नीचे लिखे अशुद्ध शब्दों को शुद्ध करके लिखिए।

($\frac{1}{2} \times 1 = 1$)

i) चरन - _____ ii) मालीक - _____

(घ) नीचे दिए गए मुहावरे का अर्थ लिखिए।

($1 \times 1 = 1$)

i) मुँह में पानी आ जाना - _____

(ड) कौन .सही बात किसने कही ?

- i) कुँ का मालिक मैं हूँ।
- ii) अब उस कुँ का मालिक कौन है ?

(४ × 1 = 4)

IV दिए गए गद्यांश को पढ़कर सही उत्तर पर गोला लगाइए।

शर्मिली को घुमक्कड़ की बातें अच्छी लगीं। शर्मिली ने अभी तक घर के बाहर कदम नहीं रखा था। वह भी दुनिया के बारे में जानना चाहती थी। तब घुमक्कड़ ने कहा बादल बाबा कहते हैं कि "सबको आगे बढ़ने का प्रयास करना चाहिए।" शर्मिली ने थोड़ी देर सोचा। फिर शर्मिली ने घुमक्कड़ के साथ नदी की धारा में बहती हुई दुनिया की सैर करने चल दी। शर्मिली घुमक्कड़ के साथ घूमकर दुनिया के बारे में जानना चाहती थी।

(5 × 1 = 5)

1. शर्मिली को किसकी बातें अच्छी लगीं ?

- i) नदी की ii) घुमक्कड़ की iii) तालाब की iv) सब की

2. किसने घर से बाहर कदम नहीं रखा था ?

- i) शर्मिली ने ii) बच्चे ने iii) दादी ने iv) आकाश ने

3. किसने कहा था कि "सबको आगे बढ़ने का प्रयास करना चाहिए?"

- i) आकाश ii) बादल बाबा iii) धरती iv) पर्वत

4. शर्मिली किसके साथ दुनिया की सैर करने चल दी ?

- i) नदी ii) पहाड़ iii) समुद्र iv) घुमक्कड़

5. शर्मिली किसके बारे में जानना चाहती थी ?

- i) दुनिया के बारे में ii) लोगों के बारे में
- iii) अपने बारे में iv) भगवान के बारे में

V दिए गए प्रश्नों को पढ़कर सही उत्तर पर गोला लगाइए।

(1 × 10 = 10)

1. बिना रुके चलते रहने से क्या मिलेगा ?

- i) स्कूल ii) लक्ष्य iii) थकान iv) घर

2. मीठे बोल बोलने से क्या बढ़ता है ?

- i) उजाला ii) हरियाली iii) अपनापन iv) दुख

- 3) छोट्टू कौन था ?
 i) गिन्नू का बेटा ii) मीची का भाई
 iii) चीची का दोस्त iv) चीची का मामा
- 4) चीची को चीनी किसने दी ?
 i) छोट्टू ने ii) मीची ने iii) गिन्नू ने iv) गिन्नू के बेटे ने
- 5) बनिया कैसा था ?
 i) लालची ii) ईमानदार iii) बेवकूफ़ iv) डरपोक
- 6) होली पर सब एक दूसरे पर क्या डालते हैं ?
 i) फूल ii) दूध iii) रंग iv) पानी
- 7) ब्राह्मण कैसा था ?
 i) झूठा ii) डरपोक iii) सीधा - साधा iv) मूर्ख
- 8) ओणम कहाँ मनाया जाता है ?
 i) असम ii) कर्नाटक iii) केरल iv) तमिलनाडु
- 9) चाँद कहाँ सफ़र करता है ?
 i) धरती पर ii) मैदान में iii) आसमान में iv) पाताल में
- 10) रात भर हवा कैसे चलती है ?
 i) सन - सन ii) कल - कल iii) लहर - लहर iv) छन - छन

VI दिए गए प्रश्नों के उत्तर लिखिए।

(5 X 1 = 5)

1. एक दिन माता से किसने हठ की ?

2. तमिलनाडु में फ़सल पर आधारित कौन - सा पर्व मनाया जाता है ?

3. कुआँ किसका था ?

4. मीची कौन था ?

5. बीज बोने पर क्या बन जाता है ?

VII सही उत्तर चुनकर वाक्य पूरे कीजिए।

($\frac{1}{2} \times 10 = 5$)

(पाँच , जिम्नास्ट , सात , चाइनीज़ , भारत , सपाट , शोमा नदी , अंडे , त्रिपुरा , शरारती)

दीपा करमाकर एक _____ है। जब वह साढ़े _____ साल की थीं , तो जिम्नास्ट सीखना शुरू किया था। वह प्रतिदिन _____ घंटे अभ्यास करती है। दीपा ने दुनियाभर में _____ का नाम ऊँचा किया है। दीपा को _____ फूड बहुत पसंद है। वह हमेशा रोटी , सब्ज़ियाँ और _____ ही खाती है। दीपा _____ की रहने वाली है। बचपन में दीपा के पैरों के तलवे एकदम _____ थे। वह बचपन में बिलकुल _____ नहीं थी। दीपा के कोच का नाम _____ था।



SINDHI HIGH SCHOOL, K. K. ROAD BENGALURU

HALF YEAR EXAMINATION 2025-26

SUBJECT: KANNADA



NAME: _____

MARKS: 40

CLASS: 3 _____

NO. OF PRINTED SIDES: 6

Roll No: _____

READING TIME: 15 MINUTES

DATE: 24/09/2025

WRITING TIME: 2 HR

ಸೂಚನೆ

- ಪ್ರಶ್ನೆಗಳನ್ನು ಸರಿಯಾಗಿ ಓದಬೇಕು.
- ಎಲ್ಲಾ ಪ್ರಶ್ನೆಗಳಿಗೂ ಕಡ್ಡಾಯವಾಗಿ ಉತ್ತರಿಸಬೇಕು.
- ಬರವಣಿಗೆ ಅಂದವಾಗಿರಲಿ.

1. ಈ ಕೆಳಗಿನ ಗದ್ಯಾಂಶವನ್ನು ಓದಿಕೊಂಡು, ಕೆಳಗೆ ಕೊಟ್ಟಿರುವ ಪ್ರಶ್ನೆಗಳಿಗೆ ಸರಿಯಾದ ಉತ್ತರ ಆರಿಸಿ ಬರೆಯಿರಿ.

ಒಂದು ಊರಿನಲ್ಲಿ ಒಬ್ಬ ರೈತನಿದ್ದ ಅವನು ಒಂದು ಕೋಳಿಯನ್ನು ಸಾಕಿದ್ದ. ದಿನ ಆ ಕೋಳಿ ಒಂದು ಚಿನ್ನದ ಮೊಟ್ಟೆಯನ್ನು ಇಡುತ್ತಿತ್ತು. ಅದನ್ನು ಮಾರಿ ಅವನು ಜೀವನ ಸಾಗಿಸುತ್ತಿದ್ದನು. ಅವನಿಗೆ ಒಂದು ದಿನ ಕೆಟ್ಟ ಆಲೋಚನೆ ಮೂಡುತ್ತದೆ. ಅವನು ದಿನಾ ಕೋಳಿಯ ಮೊಟ್ಟೆಯನ್ನು ಮಾರಿ ಜೀವಿಸುವುದಕ್ಕಿಂತ ಒಂದೇ ದಿನ ಕೋಳಿ ಹೊಟ್ಟೆ ಕೊಯ್ದು ಎಲ್ಲ ಚಿನ್ನದ ಮೊಟ್ಟೆಗಳನ್ನು ಒಟ್ಟಿಗೆ ತೆಗೆದು ಮಾರಿ ಶ್ರೀಮಂತನಾಗಬೇಕೆಂದು ಬಯಸುತ್ತಾನೆ. ಆಗ ಕೋಳಿಯ ಹೊಟ್ಟೆಯನ್ನು ಕೊಯ್ದು ನೋಡುತ್ತಾನೆ. ಹೊಟ್ಟೆ ಒಳಗೆ ಏನು ಸಿಗುವುದಿಲ್ಲ. ಆಗ ಕೋಳಿಯು ಇಲ್ಲ, ಚಿನ್ನದ ಮೊಟ್ಟೆಯು ಇಲ್ಲ ಎಂದು ಬೇಸರದಿಂದ "ಅತಿಯಾಸೆ ಗತಿಗೇಡು" ಎನ್ನುವುದನ್ನು ತಿಳಿಯುತ್ತಾನೆ.

ಪ್ರಶ್ನೆಗಳು:

(5X 1=5)

1. ರೈತನು _____ ಸಾಕಿದ್ದನು

1) ಕುರಿ

2) ದನ

3) ಕೋಳಿ

4) ನಾಯಿ

2. ರೈತನು _____ ಆಗಬೇಕೆಂದು ಬಯಸಿದನು.

- 1) ಬಡವ 2) ಕ್ರೀಮಂತ 3) ಸನ್ಯಾಸಿ 4) ಮಾಸ್ತರ್

3. ಕೋಳಿಯು ದಿನ _____ ಮೊಟ್ಟೆಯನ್ನು ಇಡುತ್ತಿತ್ತು.

- 1) ಬೆಳೆಯ 2) ಕಬ್ಬಿಣದ 3) ಚಿನ್ನದ 4) ಹತ್ತಿಯ

4. ರೈತನು ಕೋಳಿಯನ್ನು _____

- 1) ಬೈದನು 2) ಕೊಯ್ದನು 3) ಮಾರಿದನು 4) ಮುದ್ದು

5. ಅತಿ ಆಸೆ _____

- 1) ಗತಿಗೇಡು 2) ಒಳ್ಳೆಯದು 3) ದಾರಿ ತೋರುವುದು 4) ಗತಿಗೇಡುವುದಿಲ್ಲ

II. ಕೊಟ್ಟಿರುವ ಸೂಚನೆಯನ್ನು ಓದಿ, ಸರಿಯಾದ ಉತ್ತರವನ್ನು ಆರಿಸಿ ಬರೆಯಿರಿ. (5X 1=5)

1. 'ಕಲ್ಲೊಂದು' ಪದ ಬಿಡಿಸಿ ಬರೆದರೆ _____

೧. ಕಲ್ಲು + ಲೊಂದು ೨. ಕಾಲು + ಒಂದು ೩. ಕಲ್ಲು + ಒಂದು ೪. ಕಲ್ಲು + ಓಡು

2. ಸತ್ಯಕ್ಕೆ ಸಾವಿಲ್ಲ ಸುಳ್ಳಿಗೆ _____ (ಗಾದೆ ಪೂರ್ಣಗೊಳಿಸಿ)

೧. ಸುಖವಿದೆ ೨. ಸುಖವಿಲ್ಲ ೩. ದುಃಖವಿದೆ ೪. ನಗುವಿದೆ

3. 'ನ್ಯಾಯ' ಈ ಪದದ ವಿರುದ್ಧ ಪದ ಗುರುತಿಸಿ _____

೧. ಅನಾಯ್ತ ೨. ಅನ್ಯಾಯ ೩. ಅನ್ಯಾಯ ೪. ಅಸತ್ಯ

4. ಮಾಡ್ತೇನೆ: ಮಾಡುತ್ತೇನೆ :: ನೋಡ್ತೀಯಾ : _____ (ಮಾದರಿಯಂತೆ ಬರೆಯಿರಿ)

೧. ನೋಡಿದ ೨. ನೋಡಿತು ೩. ನೋಡುತ್ತೀಯಾ ೪. ನೋಡು

5. 'ತ್ರಾಣ' ಈ ಪದದ ಅರ್ಥ ಗುರುತಿಸಿ) _____

೧. ಶಕ್ತಿ ೨. ತಾಣ ೩. ತ್ರಾಸು ೪. ಕುಗ್ಗು

III. ಕೆಲಗೆ ಕೊಟ್ಟಿರುವ ಪದಗಳ ಸ್ತ್ರೀಲಿಂಗ ಬರೆಯಿರಿ.

೧. ತಮ್ಮ _____

೨. ಯುವಕ _____

(2X 1=2)

IV. ಕೆಲಗಿನ ಪದಗಳ ವಚನ ಬದಲಿಸಿ ಬರೆಯಿರಿ.

೧. ಅಕ್ಕ _____

೨. ಮರಗಳು _____

(2X 1=2)

V. ಕೆಲಗಿನ ಪದಗಳಿಗೆ ಸ್ವಂತ ವಾಕ್ಯ ರಚಿಸಿ.

೧. ಸಹಾಯ _____

೨. ನೆನಪು _____

(2X 1=2)

VI. ಪದ ಜೋಡಿಸಿ ಅರ್ಥಪೂರ್ಣವಾಕ್ಯ ರಚಿಸಿ ಬರೆಯಿರಿ.

೧. ಆಡಿದರು ಉಯ್ಯಾಲೆ ಮಕ್ಕಳು

೨. ನಾಡು ನಮ್ಮ ಕನ್ನಡ ಇದು

(2X 1=2)

VII. ಬಿಟ್ಟಸ್ಥಳ ತುಂಬಿರಿ.

೧. ನಾಯಿ ಸಿಟ್ಟಿಗೆದ್ದು ಕೆದರಿತ್ತು _____

೨. ಮಳೆ ಬಂದು _____ ಬಲು ಕೆಟ್ಟು ಹೋಗಿತ್ತು.

(2X1=2)

VIII. ಹೊಂದಿಸಿ ಬರೆಯಿರಿ.

(4 X ½ = 2)

೧. ಅಮ್ಮ



೨. ಕತ್ತರಿ



೩. ತೊಟ್ಟಿಲು



೪. ಕಪ್ಪೆ



IX. ನಿಮ್ಮಗೆ ಇಷ್ಟವಾದ ಹಣ್ಣಿನ ಚಿತ್ರ ಬಿಡಿಸಿ, ಅದರ ಬಗ್ಗೆ ನಾಲ್ಕು ವಾಕ್ಯಗಳನ್ನು ಬರೆಯಿರಿ.

(4)

x. ಚಿತ್ರ ನೋಡಿ, ಸುಳಿವು ಪದ ಬಳಸಿ ೪ ವಾಕ್ಯಗಳಲ್ಲಿ ಬರೆಯಿರಿ.

(3)



(ಮರ, ಮನೆಗಳು, ಮಕ್ಕಳು, ಸುಂದರ, ಆಟ, ಹುಡುಗ, ಹುಡುಗಿ, ಉಯ್ಯಾಲೆ, ಪಟ, ಚೆಂಡು)

XI. ಕೆಳಗಿನ ಪ್ರಶ್ನೆಗಳಿಗೆ ಒಂದು ವಾಕ್ಯದಲ್ಲಿ ಉತ್ತರಿಸಿ.

(5X1=5)

೧. ಭೀಕರ ಮಳೆ ಬಂದಾಗ ಮಹಿಳಾ ಗುಪ್ತ ಎಲ್ಲಿದ್ದಳು?

ಉ _____

೨. ನಾಯಿ ಎಲ್ಲಿ ಮಲಗಿತ್ತು?

ಉ _____

೩. ಗಾಂಧೀಜಿಯವರಿಗೆ ಯಾವುದು ಆಧಾರವಾಗಿತ್ತು?

ಉ _____

೪. ವ್ಯಾಪಾರಿಯು ಎಲ್ಲಿಗೆ ಹೋದಿದ್ದನು?

ಉ _____

೫. ಚಿತ್ರಕ್ಕೆ ಏನು ಕೊಡುವೆನೆಂದು ಕವಿ ಹೇಳಿದ್ದಾರೆ?

ಉ _____

XII. ಈ ಕೆಳಗಿನ ಪ್ರಶ್ನೆಗಳನ್ನು ಯಾವ ಪಾಠದಿಂದ ಆರಿಸಲಾಗಿದೆ ಹಾಗೂ ಯಾರು ಯಾರಿಗೆ ಹೇಳಿದರು? ಬರೆಯಿರಿ.

(2X2=4)

೧. "ಚಕ್ರ ಹೂತು ಹೋಗಿರೋದು ಕಾಣಿಸೋದಿಲ್ಲ"

ಉ: _____

೨. "ಅವನನ್ನು ಪ್ರೀತಿಯಿಂದ ಮಾತನಾಡಿಸಿರಿ"

ಉ: _____

XIII. ಕೆಳಗಿನ ಪ್ರಶ್ನೆಗೆ ಎರಡು / ಮೂರು ವಾಕ್ಯಗಳಲ್ಲಿ ಉತ್ತರಿಸಿ.

(2X1=2)

೧. ಮಹಿಳಾ ಏಕೆ ಬೊಬ್ಬಿರಿದಳು?

ಉ _____



SINDHI HIGH SCHOOL, K.K.ROAD, BENGALURU.

HALF YEARLY EXAMINATION, 2025 - 26

SUBJECT: MATHEMATICS



NAME: _____

CLASS: 3 A/B/C

ROLL NO: _____

DATE : 17 / 09 / 2025

MARKS: 40

NO. OF PRINTED SIDES: 5

READING TIME: 15 MINUTES

WRITING TIME: 2 HOURS

General Instructions.

- Read the questions carefully.
- All questions are compulsory.
- Write neatly in the given order.

Section - A

(1 X 10 = 10)

Choose the correct answer

- 1) The numbers to be added in addition are called _____.
a) sum b) addends c) difference d) total
- 2) The Hindu-Arabic numeral for XX is _____.
a) 50 b) 40 c) 30 d) 20
- 3) Sum of largest 3-digit number and 1 is _____.
a) 100 b) 101 c) 1000 d) 999
- 4) $8145 + 1000 = \text{-----}$
a) 8145 b) 9145 c) 1 d) 8144
- 5) 3 times six is equal to _____.
a) 3 b) 9 c) 18 d) 36

Fill in the blanks

- 6) When we add 1 to a number, we get its _____.
- 7) The face value of 4 in 5476 is _____.
- 8) The place value of 7 in 1704 is _____.
- 9) The short form of $5000 + 60 + 3 =$ _____.
- 10) The result in subtraction is called _____.

(2x9= 18)

Section - B

- 1) Add by expanding the number using place value :


$26 + 31$

- 2) Arrange in columns and subtract.

a) $8905 - 1903$

b) $7483 - 1364$

- 3) There are 4 flowers. Each flower has 6 petals. How many petals are there in all?



Addition sentence _____

Multiplication sentence _____

4) Complete the pattern

a) 4190, 4290, 4390, _____, _____

b) 6680, 6580, 6480, _____, _____

5) Add and write the answer in Roman numerals

a) XIV + XI

b) XL + X

6) Represent these numbers on the abacus.

a. 7654

b. 6134

7. Complete the table by writing the greatest 4-digit number and the smallest 4-digit number using the given digits.

Sl no.	Digits to be used	Greatest number	Smallest number
1.	7, 3, 5, 8		
2.	9, 5, 7, 2		

8. Fill in the blanks.

2 1 3

X 7

4 3 6

X 5

9) Arrange in columns and add.

$$3987 + 298 + 56$$

Do as directed.

SECTION - C

(2 X 3 = 6)

1. Complete the table by multiplying the given numbers by 10, 100, 1000

Sl no.	Number	Multiplied by 10	Multiplied by 100	Multiplied by 1000
1	78			
2	24			

2. Fill in the blanks using the properties.

a. $711 + 712 + 713 = 711 + 713 + \text{-----}$

b. $8411 - \text{-----} = 8410$

c. $6719 \times 0 = \text{-----}$

SECTION - D

1. Solve these word problems.

(3 × 2 = 6)

a. In a bulb manufacturing factory, 1782 bulbs were manufactured in the month of April and 3417 bulbs were manufactured in May. Find the total number of bulbs manufactured in these two months.

----- = -----
----- = -----
----- = -----

b. Arya's mobile has 3783 songs. Ankith's mobile has 2679 songs. Whose mobile has more songs and by how much?

----- = -----
----- = -----
----- = -----

c. A calculator costs Rs. 516. What is the cost of 8 such calculators?

----- = -----
----- = -----
----- = -----



SINDHI HIGH SCHOOL, K.K.ROAD BENGALURU

HALF YEARLY EXAMINATION 2025

SUBJECT: EVS



NAME: _____

MARKS: 40

CLASS: 3 A/ B/ C

NO. OF PRINTED SIDES -6

ROLL NO.: _____

READING TIME: 15 MINUTES

DATE: 22/9/2025

WRITING TIME: 2HR

General instructions:

Read the questions carefully.

All questions are compulsory.

Write neatly in the given order.

I. Multiple choice questions

1X6=6

1. Which of the following is a non-living thing?


a) A baby

b) A tree

c) A fish

d) A basket

2. Identify the part of the plant in the given picture that we eat.



a) Root

b) Leaf

c) Stem

d) Flower

3. Which among the following are extinct animals?

a) Giant panda

b) Wild cat

c) Dinosaurs

d) leopard

4. Identify the migratory bird-

a) Eagle

b) Arctic Tern

c) Cuckoo

d) Crow

5. Food that is bad for your health.
a) Pizzas
c) Dosa
b) Curd rice
d) Fruits

6. National game of India is _____
a) Hockey
c) Kabbadi
b) Football
d) Badminton

$\frac{1}{2} \times 6 = 3$

II. Write true or false.

1. All living things are made of cells.
2. Stem is the underground part of the plant.
3. Birds have poor eyesight.
4. The cheetah is the fastest animal on land.
5. Food gives us nutrients.
6. Rice is a type of protective food.

$2 \times 5 = 10$

III. Answer the following

1. Define migration.

2. What is balanced diet?

3. Differentiate between herbivores and carnivores.

Herbivores

Carnivores

i.	_____	i	_____
ii	_____	ii	_____
	_____		_____

4. Write briefly about the following

i. Indoor games:

ii. Outdoor games:

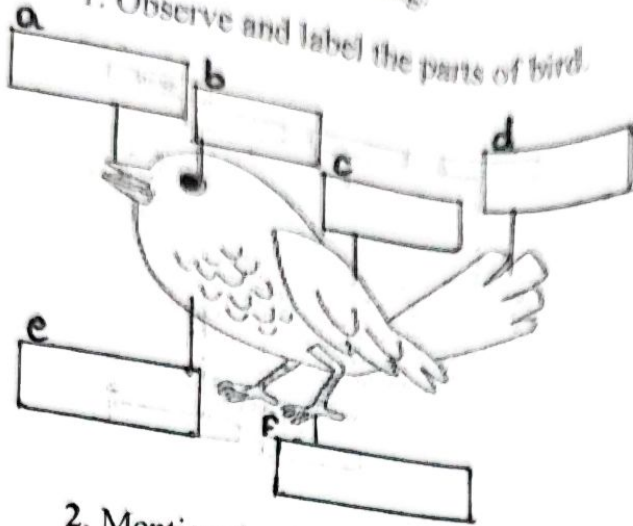
5. List any two functions of root.

IV. Analogy:

1. Living thing: Breathe:: $\frac{1}{2} \times 6 = 3$: Do not breathe.
2. _____ : Mint:: Shrub: Rose.
3. Webbed feet: Duck :: _____ : Sparrow
4. Land animal: Dog:: _____ : Whale
5. Chess: Indoor game:: Cricket: _____
6. Seeds: Groundnut:: _____ : Spinach

V. Answer the following.

1. Observe and label the parts of bird.




2. Mention the three different kinds of food with one example each.

-

3. Playing is very important for a child's growth. Explain.

Five horizontal wavy lines for writing.

4. Draw and label the parts of a leaf.





SINDHI HIGH SCHOOL, BENGALURU

Half Yearly Examination 2025-26

Subject: Computer Science



Name: _____

Class: III A/ B/ C

Roll No. _____

Date: 12/09/2025

Marks: 30

No of Printed Sides: 03

Reading Time: 15 Minutes

Writing time: 1 Hour

Instructions:

1. Read all questions carefully.
2. All questions are compulsory.
3. Write neatly in the given order.

1.	Choose the correct answer	5X1=5
1	What is the function of the CPU in a Computer? (a) To display videos and games on the screen. (b) To process information and carry out the tasks assigned by the user. (c) To help in typing words and sending instructions to the computer. (d) To move the pointer on the screen.	1
2.	What does an operating system act as in a Computer? (a) A software that only manages hardware resources. (b) A bridge between users and computer hardware. (c) A tool only for executing programs. (d) A Component that only manages the files.	1
3.	In Tux Paint, what is the 'Magic Tool' function? (a) To add words and letters to the drawings. (b) To create perfect shapes on the canvas. (c) To fill areas with colour automatically and colour large spaces quickly. (d) To remove parts of your drawing.	1

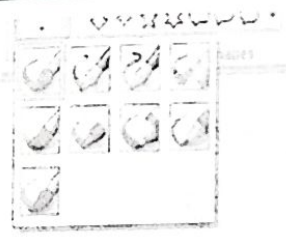


4. How do blocks function in PictoBlox?
(a) They are dragged and dropped to create scripts.
(b) They can be moved around the stage.
(c) They are used to change the costumes of sprites.
(d) They are used to create sounds.

1

5. What are loops like in the context of task completion?
(a) Making different patterns every time.
(b) Repeating patterns in a task or activity.
(c) Doing something once and not repeating it.
(d) Ignoring patterns in a task.

6X1=6

II. Name the Picture



11.	Write the Shortcut Keys for the following	3x1=3
1.	Copy the selected text or object. _____ (Ctrl+U/Ctrl+C)	
2.	Create a new document. _____ (Ctrl+N/Ctrl+Y)	
3.	Undo the last action. _____ (Ctrl+B/Ctrl+Z)	
IV.	Fill in the blanks:[cursor,monitor, desktop, text, script]	5X1=5
1.	_____ tool helps add words and letters to drawing in MS Paint.	1
2.	_____ displays images on the computer screen.	1
3.	The initial window on a computer is called _____.	1
4.	Visual representation of the actual code of a program in PictoBlox _____.	1
5.	A blinking line where you start typing is called _____.	1
V.	Answer in following:	3X2=6
1.	Write the full form of the following. IPO: _____ CPU: _____	2

2: What is TUX Paint?

3. Define the following:

Algorithm: _____

Decomposition: _____

VI. Word Search

Find the following words in the puzzle.

keyboard	mouse	hardware
monitor	Software	

k	e	y	b	o	a	r	d
o	l	m	x	g	v	k	c
s	o	f	t	w	a	r	e
n	c	m	m	s	j	k	i
h	o	m	o	u	s	e	k
x	s	h	w	f	g	s	m
m	o	n	i	t	o	r	f
h	a	r	d	w	a	r	e

5X1=5
